

Proves d'accés a la universitat

Convocatòria 2015

Física


Sèrie 5

L'examen consta d'una part comuna (problemes P1 i P2), que heu de fer obligatòriament, i d'una part optativa, de la qual heu d'escollir UNA de les dues opcions (A o B) i fer els problemes P3, P4 i P5 corresponents.

Cada problema val 2 punts.

PART COMUNA

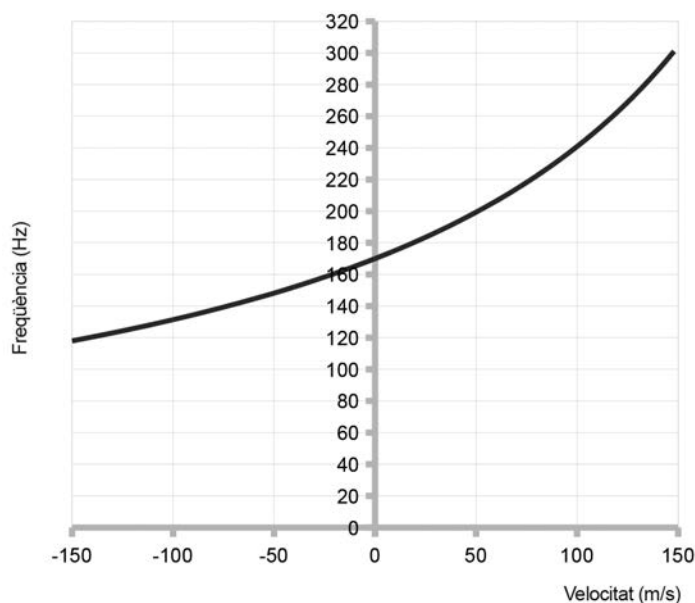
P1) El 1877, l'astrònom Asaph Hall va descobrir els satèl·lits del planeta Mart: Fobos i Deimos. El dia 6 d'agost de 2012, el robot *Curiosity* va arribar al planeta Mart i des de llavors envia informació a la Terra sobre les característiques d'aquest planeta. A partir de les dades subministrades, calculeu:



- La massa del planeta Mart.
- El radi de l'òrbita de Deimos i la velocitat d'escapament del robot *Curiosity* des de la superfície del planeta.

DADES: Radi de Mart, $R_{\text{Mart}} = 3\,390 \text{ km}$
Acceleració de la gravetat en la superfície de Mart, $g_{\text{Mart}} = 3,71 \text{ m s}^{-2}$
Període orbital de Deimos, $T_{\text{Deimos}} = 30,35 \text{ h}$
Massa de Deimos, $m_{\text{Deimos}} = 2 \times 10^{15} \text{ kg}$
 $G = 6,67 \times 10^{-11} \text{ N m}^2 \text{ kg}^{-2}$

- P2) Hem construït aquesta gràfica a partir de dades de freqüència recollides quan una font de so es movia acostant-se a nosaltres (velocitats positives) o allunyant-se'n (velocitats negatives), a velocitats diferents.



- a) Com s'anomena el fenomen que hem estudiat en aquest experiment? La font de so s'acosta a nosaltres amb un moviment rectilini uniforme (MRU) a 100 m s^{-1} i ens sobrepasa. Quin canvi de freqüència (expressada en Hz) sentirem en el moment en què passi just pel nostre costat? La freqüència que sentirem augmentarà o disminuirà?
- b) La taula següent mostra com disminueix la intensitat sonora quan ens situem a diferents distàncies d'un emissor puntual de so.

Distància (m)	5,0	10,0	15,0	20,0	25,0	30,0	35,0
$I \text{ (mW m}^{-2}\text{)}$	0,080	0,020	0,0089	0,0050	0,0032	0,0022	0,0016

Calculeu a quina distància, aproximadament, haurem d'estar perquè el nivell de sensació sonora sigui de 65 dB i calculeu la potència de la font sonora, suposant que emet igual en totes les direccions.

DADA: Intensitat del llindar d'audició (0 dB), $I_0 = 1,00 \times 10^{-12} \text{ W m}^{-2}$

OPCIÓ A

- P3) El radó 222, de símbol Rn, és un gas noble responsable de bona part de l'exposició de les persones a les radiacions ionitzants. El ^{222}Rn es forma al subsòl a partir del radi (Ra) i a causa del seu estat gasós es difon cap a l'atmosfera.
- a) Quan el ^{222}Rn es desintegra emet partícules α . Escriviu l'equació nuclear d'aquest procés de desintegració.
- b) A més de la radiació α , durant el procés de desintegració també s'emeten raigs γ (no cal que els incloguem en l'equació de l'apartat anterior). Calculeu la freqüència i la longitud d'ona d'un fotó γ d'energia 5,50 MeV.

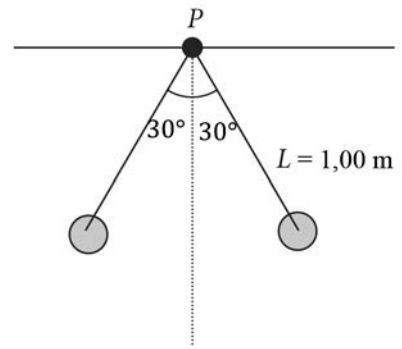
DADES: Nombres atòmics: Bi, 83; Po, 84; At, 85; Rn, 86; Fr, 87; Ra, 88; Ac, 89.

$$1 \text{ eV} = 1,60 \times 10^{-19} \text{ J}$$

$$\text{Constant de Planck, } h = 6,63 \times 10^{-34} \text{ J s}$$

$$\text{Velocitat de la llum, } c = 3,00 \times 10^8 \text{ m s}^{-1}$$

P4) Dues esferes metàl·liques massisses pengen cadascuna d'un fil no conductor, com mostra la figura. Les dues esferes tenen la mateixa massa i la mateixa càrrega negativa de valor $-5,80 \mu\text{C}$ i es troben en equilibri formant un angle de 30° amb la vertical. La distància des del punt P fins al centre de cada esfera és d'1,00 m.



- Calculeu el valor de la massa de cadascuna de les esferes.
- Calculeu el camp elèctric total (mòdul, direcció i sentit) en el punt P .

DADES: $g = 9,81 \text{ m s}^{-2}$

$$k = \frac{1}{4\pi\epsilon_0} = 8,99 \times 10^9 \text{ N m}^2 \text{ C}^{-2}$$

P5) En un selector de velocitats, un protó es mou en la direcció x en una regió amb camps creuats, on $\mathbf{E} = 2,00 \times 10^5 \text{ N/C } \mathbf{j}$ i $\mathbf{B} = 3,00 \times 10^3 \text{ G } \mathbf{k}$.

- Dibuixeu un esquema dels camps i també de les forces que actuen sobre el protó. Quina és la velocitat del protó si no es desvia de la seva trajectòria rectilínia?
- Mentre el protó es mou sense desviar-se interrompem el camp elèctric. Calculeu el radi de curvatura de la trajectòria del protó.

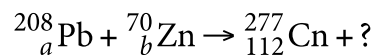
DADES: $1 \text{ T} = 10^4 \text{ G}$

Càrrega del protó, $Q_{\text{protó}} = 1,60 \times 10^{-19} \text{ C}$


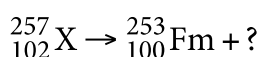
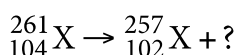
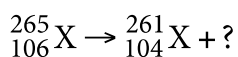
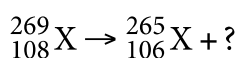
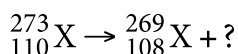
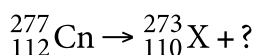
Massa del protó, $m_{\text{protó}} = 1,67 \times 10^{-27} \text{ kg}$

OPCIÓ B

P3) El copernici ${}_{112}^{277}\text{Cn}$ va ser sintetitzat al laboratori del Centre per a la Recerca d'Ions Pesants (GSI) de Darmstadt (Alemanya) el 9 de febrer del 1999. El nom oficial data del febrer del 2010, en honor de Nicolau Copèrnic. Per a obtenir-lo, es bombardeja una diana de plom amb projectils d'àtoms de zinc. La reacció es pot escriure així:



El ${}_{112}^{277}\text{Cn}$ es desintegra segons la seqüència següent:



El ${}_{112}^{277}\text{Cn}$ té un període de semidesintegració de 0,17 ms.

- Completeu la reacció d'obtenció del ${}_{112}^{277}\text{Cn}$ a partir de plom i de zinc. Quin tant per cent de ${}_{112}^{277}\text{Cn}$ roman sense desintegrar-se al cap d'un minut d'haver-se produït la reacció d'obtenció d'aquest isòtop?
- Escriviu la seqüència o sèrie radioactiva (amb tots els símbols dels elements) fins a arribar al fermi.

DADES:

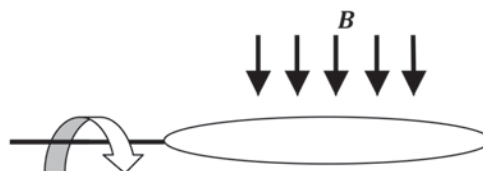
${}_{82}\text{Pb}$	${}_{110}\text{Ds}$	${}_{108}\text{Hs}$	${}_{106}\text{Sg}$	${}_{104}\text{Rf}$	${}_{102}\text{No}$	${}_{100}\text{Fm}$	${}_{30}\text{Zn}$
plom	darmstadt	hassi	seaborgi	rutherfordi	nobeli	fermi	zinc

- P4)** En una zona de l'espai hi ha dues càrregues elèctriques puntuals de la mateixa magnitud però de signe contrari separades 20,0 cm.
- Calculeu l'energia potencial de la distribució de càrregues.
 - Quin treball cal fer per a separar les càrregues des d'una distància inicial de 20,0 cm fins a una distància final de 50,0 cm?

DADES: Valor absolut de cada càrrega = 1,00 μC

$$k = \frac{1}{4\pi\epsilon_0} = 8,99 \times 10^9 \text{ N m}^2 \text{ C}^{-2}$$

- P5)** En una zona de l'espai hi ha un camp magnètic uniforme de 0,40 T. En aquesta regió hi ha una espira circular de 200 cm^2 d'àrea que gira a 191 rpm (revolucions per minut), tal com indica la figura.



- Si en l'instant inicial el camp magnètic és perpendicular al pla de l'espira, expresseu l'equació del flux magnètic que travessa l'espira en funció del temps.
- Quina és la força electromotriu (FEM) màxima generada per l'espira?